

MUNICÍPIO DE DOUTOR MAURÍCIO CARDOSO

ESTADO DO RIO GRANDE DO SUL

EDITAL DE CONCURSO PÚBLICO N.º 10/2017

07 DE MAIO DE 2017

CARGO: Operador de Máquinas

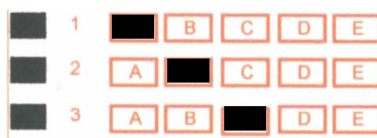
INSTRUÇÕES

Este Caderno de Questões contém **40 questões**, constituídas com cinco opções (A, B, C, D, E) e **uma única resposta correta**. Em caso de divergência de dados e/ou de defeito no Caderno de Questões, solicite providências ao fiscal de sala.

Você receberá juntamente com o Caderno de Questões, o **Gabarito**, o qual conterà o **Cartão de Identificação** e o **Cartão Resposta**.

O **Cartão de Identificação** deverá ser preenchido atentamente com **Nome, Nº da Inscrição, Data de Nascimento e Assinatura**.

As respostas do Caderno de Questões deverão ser transcritas para o **Cartão Resposta**, na ordem de 01 a 40, com caneta esferográfica de tinta azul ou preta, de acordo com as orientações de preenchimento abaixo:



O **Cartão Resposta** é o único documento válido para a correção das provas e o não preenchimento correto implica a anulação da questão. **Não será fornecido**, em hipótese alguma, novo Cartão Resposta por erro de preenchimento por parte do candidato.

O Gabarito é **insubstituível** e de inteira responsabilidade do candidato, por isso não deve ser amassado, dobrado, rasgado ou rasurado.

Durante a realização das provas **não será permitida qualquer consulta a materiais**, sejam didáticos ou eletrônicos. O candidato que for flagrado fazendo uso desses materiais estará automaticamente **eliminado** do Concurso Público.

A **interpretação das questões** é parte integrante da prova, não sendo permitido aos fiscais de sala auxiliar na interpretação.

A saída da sala de prova, com a entrega do Caderno de Questões e Gabarito, somente será permitida após transcorrido **30 minutos do início da mesma**.

Ao concluir a prova e o preenchimento do Cartão Resposta, **entregue o Caderno de Questões e o Gabarito ao fiscal de sala**. A não entrega de qualquer um dos itens especificados acima, implicará na eliminação do candidato do Concurso Público.

O tempo de duração total da prova é de **3 horas**, incluído o tempo para preenchimento do Gabarito.

O candidato poderá anotar suas respostas no gabarito disponível na última página da prova escrita/objetiva para conferir com o gabarito oficial.

Os **3 últimos candidatos** ao terminar a prova deverão permanecer juntos em sala para, juntamente com os fiscais de sala, conferir os Gabaritos, assinar a folha ata e o lacre dos envelopes que guardarão os Cartões de Identificação, os Cartões Resposta e os Cadernos de Questões.

A **desobediência** a qualquer uma das determinações constantes do Edital de Concurso Público, do presente Caderno de Questões e de preenchimento do Gabarito, implicará na **eliminação do candidato** do Concurso Público.

O **Gabarito Preliminar** e a **prova escrita/objetiva** estarão disponíveis, no dia **07 de maio de 2017**, após as 20h00min, no site www.alternativeconcursos.com.br.

É facultado ao candidato interpor **recurso** contra as questões da prova escrita/objetiva através do e-mail recursos@alternativeconcursos.com.br, no prazo de **08 a 12 de maio de 2017**.

01) Estrofes é o coletivo de:

- a) Versos
- b) Poemas
- c) Palavras
- d) Frases
- e) Rimas

02) Em relação a acentuação das palavras e o novo acordo ortográfico, assinale a alternativa em que a palavra mantém o acento:

- a) Geléia
- b) Idéia
- c) Jibóia
- d) Heróico
- e) Ciúme

03) Acerca do uso do MAL e MAU analise as assertivas e assinale a resposta incorreta:

- a) Pedro é um menino mau.
- b) A paciente está mal.
- c) O clube foi mau no jogo.
- d) Nosso relacionamento está indo muito mal.
- e) O trabalho ficou mal feito.

04) Acerca do uso da crase analise as alternativas e assinale a resposta em que a crase foi usada corretamente:

- a) As crianças gostam de andar à cavalo.
- b) Ela foi a cidade à pé.
- c) Adoro arroz à grega.
- d) Viajei à Pernambuco.
- e) Começou à garoar.

05) São sinônimos de RELEVANTE, exceto:

- a) Significativo
- b) Superficial
- c) Importante
- d) Pertinente
- e) Expressivo

06) São antônimos de OBSCURO, exceto:

- a) Claro
- b) Óbvio
- c) Misterioso
- d) Fácil
- e) Nítido

07) Acerca do plural e diminutivo das palavras assinale a alternativa incorreta:

- a) Botão – Botões – Botõezinhos
- b) Animal – Animais – Animaizinhos
- c) Cão – Cães – Cãezinhos
- d) Pé – Pés – Pezinhos
- e) Bola – Bolas – Bolazinhas

08) Acerca da separação silábica assinale a alternativa incorreta:

- a) Exceção - ex - ce - ção
- b) Pássaro - pás - sa - ro
- c) Guerra- guer - ra
- d) Cadeado - ca - dea - do
- e) Juíza - ju - í - za

09) Acerca das palavras escritas com CH assinale a alternativa incorreta:

- a) Deboche
- b) Tchau
- c) Froucho
- d) Rancho
- e) Chacina

10) A forma correta de escrever o número 1726 é:

- a) Mil setecentos e vinte e seis
- b) Um mil setessentos e vinte e seis
- c) Um mil cetecentos e vinte ceis
- d) Um mil cetessentos e vinte seis
- e) Mil setecentos e vinte e ceis

Matemática

11) Certo dia João decidiu fazer uma reforma em seu veículo. O mecânico fez um orçamento para as despesas com material e mão de obra que totalizou em R\$ 3.750,00, valor este que poderia ser pago em 8 parcelas sem acréscimos. Sabendo que João deu uma entrada de R\$ 1.000,00 e parcelou o saldo restante em 8 vezes, qual foi o valor de cada parcela?

- a) R\$ 343,75
- b) R\$ 468,75
- c) R\$ 358,75
- d) R\$ 648,75
- e) R\$ 486,75

12) Um auditório com 150 lugares está ocupado com 30% de sua capacidade. Qual a quantidade de lugares ocupados?

- a) 60
- b) 75
- c) 45
- d) 30
- e) 25

13) Uma retroescavadeira possui um vazamento de óleo em uma mangueira hidráulica e também necessita reparo na bomba hidráulica. Sabendo que o valor da mangueira é de R\$ 875,00, o reparo na bomba hidráulica custa R\$ 2.980,00 e a mão de obra para realização do serviços é de R\$ 1.990,00, qual o custo total dos serviços?

- a) R\$ 4.500,00
- b) R\$ 3.675,00
- c) R\$ 5.900,00
- d) R\$ 5.845,00
- e) R\$ 6.458,00

14) Um terreno onde será feita uma terraplanagem possui 65 metros de largura e 80 metros de comprimento. Qual a área total desse terreno?

- a) 4.500m²
- b) 5.200m²
- c) 3.600m²
- d) 6.900m²
- e) 7.400m²

15) Sabendo que um Operador de Máquinas percorreu a distância de 750.000 metros em um determinado tempo, podemos afirmar que ele percorreu em km (quilômetros):

- a) 75km
- b) 560km
- c) 750km
- d) 980km
- e) 650km

Conhecimentos Gerais

16) Desde 1965, aos 21 dias do mês de abril, celebra-se no Brasil o Dia de Tiradentes e, junto à pessoa deste, rememoram-se também os acontecimentos que configuraram a Inconfidência Mineira. Sabe-se que "Tiradentes" era o apelido de:

- a) Joaquim José da Silva Xavier.
- b) Tomás Antonio Gonzaga.
- c) Visconde de Barbacena.
- d) Silvério dos Reis.
- e) Castelo Branco.

17) O Mercosul é um bloco econômico fundado em 1991 por Argentina, Brasil, Paraguai e Uruguai, países classificados como membros plenos do bloco. A(o) _____, até então, também figurava nessa categoria – embora não fosse um dos países fundadores, pois sua adesão ocorreu em 2012. No entanto, uma série de motivações culminou na sua suspensão no final de 2016. Assinale a alternativa que contempla corretamente o trecho acima:

- a) Chile.
- b) Colômbia.
- c) Peru.
- d) Venezuela.
- e) Bolívia.

18) A dengue é uma doença viral transmitida pelo mosquito *Aedes aegypti*. No Brasil, foi identificada pela primeira vez em 1986. Estima-se que 50 milhões de infecções por dengue ocorram anualmente no mundo. Acerca das formas de prevenção da dengue leia as afirmações abaixo e assinale a alternativa correta:

- I. A única forma de prevenção é acabar com o mosquito, mantendo o domicílio sempre limpo, eliminando os possíveis criadouros.
- II. Roupas que minimizem a exposição da pele durante o dia, quando os mosquitos são mais ativos, proporcionam alguma proteção às picadas e podem ser adotadas principalmente durante surtos.
- III. Repelentes e inseticidas também podem ser usados, seguindo as instruções do rótulo.
- IV. Mosquiteiros proporcionam boa proteção pra aqueles que dormem durante o dia (por exemplo: bebês, pessoas acamadas e trabalhadores noturnos).

- a) Somente I, II e III estão corretos.
- b) Somente I, III e IV estão corretos.
- c) Somente II, III e IV estão corretos.
- d) Somente I e III estão corretos.
- e) Todos estão corretos.

19) Para garantir a aposentadoria dos brasileiros, o governo propôs uma reforma na Previdência Social. Se aprovada, a medida vai criar novas regras de idade, de tempo de contribuição, além de harmonizar direitos entre todos os brasileiros. A partir da aprovação das novas regras, a aposentadoria passa a ser concedida para os brasileiros a partir dos _____. Além disso, para adquirir esse direito, o trabalhador deverá ter contribuído por, no mínimo, _____.

- a) 65 anos - 25 anos.
- b) 60 anos - 20 anos.
- c) 55 anos - 25 anos.
- d) 65 anos - 35 anos.
- e) 60 anos - 25 anos.

20) Bruno, o goleiro condenado a 22 anos e três meses de prisão pelo assassinato de Eliza Samudio, em 2010, depois de muita polêmica, assinou contrato com um time de Varginha, no Sul de Minas. Ele disse que, durante várias vezes em que esteve preso, achou que não daria para voltar aos gramados, mas ressaltou que vive de sonhos. De que time o trecho se refere?

- a) Boavista.
- b) Boa Esporte.
- c) Esporte de Patos.
- d) Elosport.
- e) Estrela do Norte.

Conteúdos Específicos

21) (Constituição Federal) Em que ano foi promulgada a Constituição Federal vigente em nosso País?

- a) 1998
- b) 2016
- c) 1988
- d) 1969
- e) 1974

22) (Constituição Federal) De acordo com o art. 7º, XIII, são direitos dos trabalhadores urbanos e rurais, além de outros que visem à melhoria de sua condição social a duração do trabalho normal não superior a _____ horas diárias e _____ semanais, facultada a compensação de horários e a redução da jornada, mediante acordo ou convenção coletiva de trabalho. Assinale a alternativa que contempla corretamente o trecho acima:

- a) oito – quarenta e quatro
- b) seis – quarenta
- c) doze – sessenta
- d) quatro – trinta e seis
- e) nove – cinquenta

23) (Constituição Federal) De acordo com o art. 14, § 1º, II, o alistamento eleitoral e o voto são facultativos para os maiores de _____ e menores de _____ anos. Assinale a alternativa que contempla corretamente o trecho acima:

- a) Dezesesseis – vinte e um
- b) Dezenove – dezoito
- c) Dezesesseis – dezoito
- d) Quatorze – dezesseis
- e) Quatorze – dezoito

24) (Constituição Federal) De acordo com o art. 18, § 1º qual é a Capital Federal da República Federativa do Brasil?

- a) São Paulo.
- b) Rio de Janeiro.
- c) Florianópolis.
- d) Brasília.
- e) Porto Alegre.

25) (Constituição Federal) De acordo com o art. 144, a segurança pública, dever do Estado, direito e responsabilidade de todos, é exercida para a

preservação da ordem pública e da incolumidade das pessoas e do patrimônio, através dos seguintes órgãos:

- I. polícia federal.
- II. polícia rodoviária federal.
- III. polícia ferroviária federal.
- IV. polícias civis.
- V. polícias militares e corpos de bombeiros militares.

- a) Somente I, II e III estão corretos.
- b) Somente II, III e IV estão corretos.
- c) Somente I, III e V estão corretos.
- d) Nenhum está correto.
- e) Todos estão corretos.

26) (Constituição Federal) De acordo com o art. 156 é um imposto que compete ao Município instituí-lo:

- a) propriedade predial e territorial urbana.
- b) importação de produtos estrangeiros.
- c) produtos industrializados.
- d) propriedade territorial rural.
- e) transmissão causa mortis e doação, de quaisquer bens ou direitos.

27) (Lei Orgânica) De acordo com o art. 1º, o Município de Doutor Maurício Cardoso, pessoa integrante da República Federativa do Brasil e do Estado do Rio Grande do Sul, reger-se-á por esta(e) _____ e demais Leis que adotar, respeitados os princípios estabelecidos nas Constituições Federal e Estadual. Assinale a alternativa que contempla corretamente o trecho acima:

- a) Código de Posturas.
- b) Lei Orgânica.
- c) Código de Obras.
- d) Decreto Municipal.
- e) Código Tributário.

28) (Lei Orgânica) De acordo com o art. 5º, I, a autonomia do Município se expressa pela eleição direta dos Vereadores, que compõem o:

- a) Poder Executivo Municipal.
- b) Poder Judiciário Municipal.
- c) Poder Legislativo Municipal.
- d) Poder Governamental Municipal.
- e) Poder Público Municipal.

29) (Lei Orgânica) De acordo com o art. 7º, compete, ao Município, concorrente com a União e o Estado, ou simplesmente a eles:

- I. zelar pela saúde, higiene, segurança e assistência públicas.
- II. promover o ensino, a educação, a cultura e estimular a prática esportiva.

III. estimular o melhor aproveitamento da terra, bem como as defesas contra as formas de exaustão do solo.

IV. abrir e conservar estradas e caminhos e determinar a execução de serviços públicos.

- a) Somente I, II e III estão corretos.
- b) Somente II, III e IV estão corretos.
- c) Somente II e IV estão corretos.
- d) Nenhum está correto.
- e) Todos estão corretos.

30) (Lei Orgânica) De acordo com o art. 11, a Câmara Municipal é composta de:

- a) Onze vereadores.
- b) Quinze vereadores.
- c) Nove vereadores.
- d) Treze vereadores.
- e) Seis vereadores.

31) Acerca do conceito das vias, leia as afirmações abaixo e assinale a alternativa correta:

I. Via – superfície por onde transitam veículos, pessoas e animais, compreendendo a pista, a calçada, o acostamento, ilha e canteiro central.

II. Via rural – ruas, avenidas, vielas, ou caminhos e similares abertos à circulação pública, situados na área urbana, caracterizados principalmente por possuírem imóveis edificadas ao longo de sua extensão.

III. Via urbana – estradas e rodovias.

- a) Somente I e II estão corretos.
- b) Somente II e III estão corretos.
- c) Somente I está correto.
- d) Somente I e III estão corretos.
- e) Todos estão corretos.

32) São agentes responsáveis pela fiscalização das leis de trânsito, exceto:

- a) Polícia Rodoviária Federal/DNIT.
- b) Agentes do DETRAN e DER.
- c) Polícia Militar dos Estados e do Distrito Federal.
- d) Agentes dos Órgãos ou entidades Municipais.
- e) Corpo de Bombeiros.

33) A placa de sinalização de regulamentação abaixo indica:



- a) Parada obrigatória.
- b) Dê a preferência.
- c) Passagem obrigatória.
- d) Siga em frente.
- e) Estacionamento Regulamentado.

34) A placa de sinalização de regulamentação abaixo indica:



- a) Proibido trânsito de pedestres.
- b) Área escolar.
- c) Passagem obrigatória.
- d) Pedestre, ande pela direita.
- e) Duplo sentido de circulação.

35) A placa de sinalização de regulamentação abaixo indica:



- a) Proibido ultrapassar.
- b) Proibido trânsito de veículos automotores.
- c) Conserve-se à direita.
- d) Circulação exclusiva de veículos automotores.
- e) Trânsito proibido a carros de mão.

36) A placa de sinalização de advertência abaixo indica:








- a) Passagem de nível com barreira.
- b) Cruz de Santo André.
- c) Mão dupla adiante.
- d) Ponte móvel.
- e) Bifurcação em "Y".

37) A placa de sinalização de advertência abaixo indica



- a) Início de pista dupla.
- b) Mão dupla adiante.
- c) Estreitamento de pista ao centro.
- d) Alargamento de pista.
- e) Pista dividida.

38) Assinale a alternativa que corresponde a placa de sinalização de advertência “Passagem sinalizada de escolares”:

- a) 
- b) 
- c) 
- d) 
- e) 

39) A sinalização vertical de indicação tem por finalidade identificar as vias e os locais de interesse, bem como orientar condutores de veículos quanto aos percursos, os destinos, as distâncias, os serviços auxiliares e também tem como função a educação do usuário. O que indica a placa abaixo?



- a) Placa de identificação quilométrica.
- b) Placa de identificação de rodovia.
- c) Placa de identificação de região.
- d) Placa de pedágio.

- e) Placa indicativa de distância.

40) Assinale a alternativa que corresponde aos telefones de emergência do Disque Denúncia e Polícia Civil respectivamente:

- a) 191 - 195
- b) 181 - 197
- c) 199 - 198
- d) 197 - 193
- e) 192 - 191